



# Un itinéraire pour Philéas

Activité conçue à l'occasion de l'école d'été 2009 en vue de mettre les participants en questionnement.

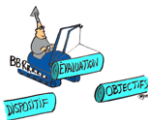
**B. Raucent et E. Milgrom**

**Juin 2009**

|              |  |  |
|--------------|--|--|
| <b>Local</b> |  |  |
|              |  |  |
|              |  |  |
|              |  |  |
|              |  |  |

Livret participants (aller): pp 1, 3, 5, 7, 9, et 11  
Livret participants (retour): pp 13 et 15  
Livret participants (discussion) : pp 16 et 17





## Consigne 1

---

Vous avez 20' pour comparer et qualifier les exemples de plans et de descriptions d'itinéraires reçus (pages 3, 5 et 7)

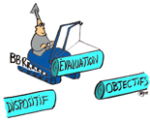
### Exemple 1

**Itinéraire pour se rendre aux points de rendez-vous à Louvain-la-Neuve, le 24 septembre 2006 (Rallye pédestre – départ entre 9h et 10h)**

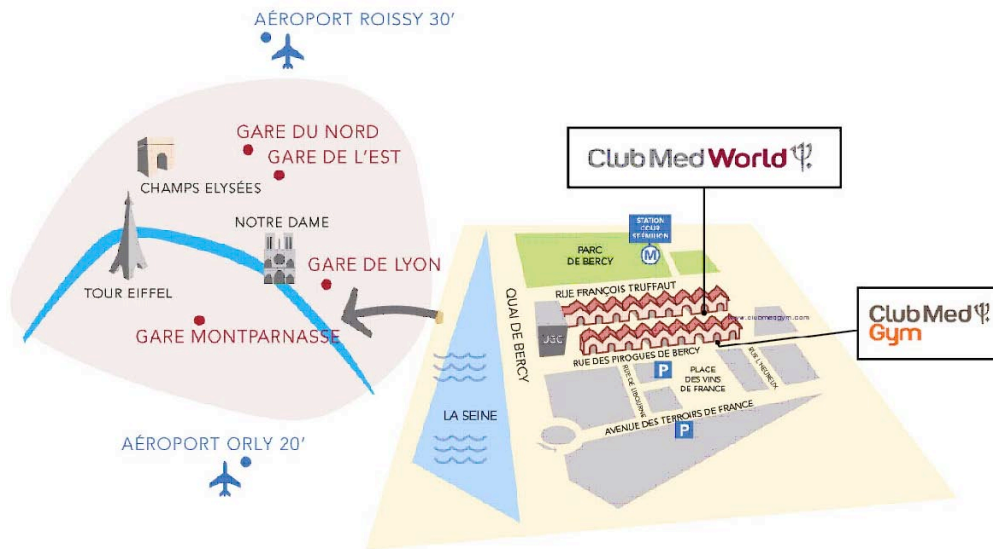
- Si vous prenez l'autoroute E411, dirigez-vous vers la sortie 9 :
  - Prendre la sortie 9 (fléchage N25/Corroy-le-Grand/6 Flags/Mont-St-Guibert) et suivre la direction 6 Flags/Mont-St-Guibert/Ottignies/N25.
  - Au rond-point, prendre à droite la N4 direction Wavre/Louvain-la-Neuve (surtout **ne pas** prendre la N25) (vous remarquerez déjà une œuvre au milieu du rond-point).
  - Roulez jusqu'au second rond point (plaque N4 - km 26) (NB: l'entrée de "Voltis", à droite au premier rond-point, est également dotée d'une œuvre d'art) : vous prendrez, la troisième route l'entrée de Louvain-la-Neuve "Biéreau/Bruyères/N233".
- Si vous prenez directement la N4 Wavre-Namur, roulez jusqu'au rond-point 'Goldies' (plaque N4 - km 26) :
  - en venant de Wavre, à droite, entrée de Louvain-la-Neuve "Biéreau/Bruyères/N233";
  - en venant de Namur, à gauche, entrée de Louvain-la-Neuve "Biéreau/Bruyères/N233" (indication: jardinerie Goldies en contrebas à droite en venant de Gembloux).

Puis:

- Entrez dans Louvain-la-Neuve en prenant l'entrée Biéreau/Bruyère/N233 (Avenue Roi Baudouin - direction "LLN centre").
- Roulez tout droit jusqu'au deuxième carrefour en laissant à votre gauche successivement une station Q8 et le cœur du premier cyclotron belge. Vous êtes dans le quartier des sciences (sciences exactes à gauche, sciences appliquées puis sciences agronomiques à droite).
- A ce second carrefour, tournez à droite en suivant les panneaux "vers auditorios des Sciences/P20-29" : vous êtes sur l'Avenue du Jardin Botanique.
- Sur l'Avenue Jardin Botanique, roulez tout droit et, après le "casse-vitesse", au carrefour en croix, entrez dans le parking du Pont-Neuf, à votre droite (fléchage "Parking Galilée/P22"). Garez-y votre voiture.
- Suivez le panneau indicateur "vers Place Galilée/P22", remontez légèrement : la place en bois est la Place des Sciences.




### Exemple 2

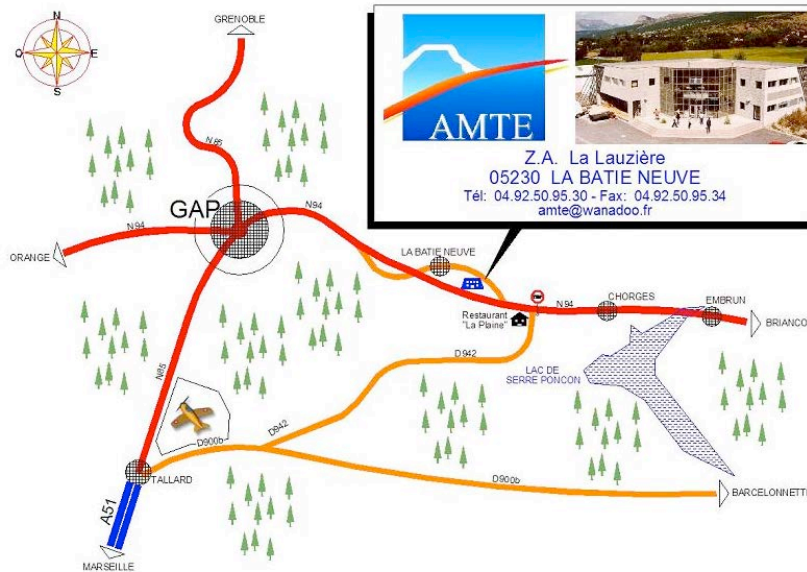


### Exemple 3

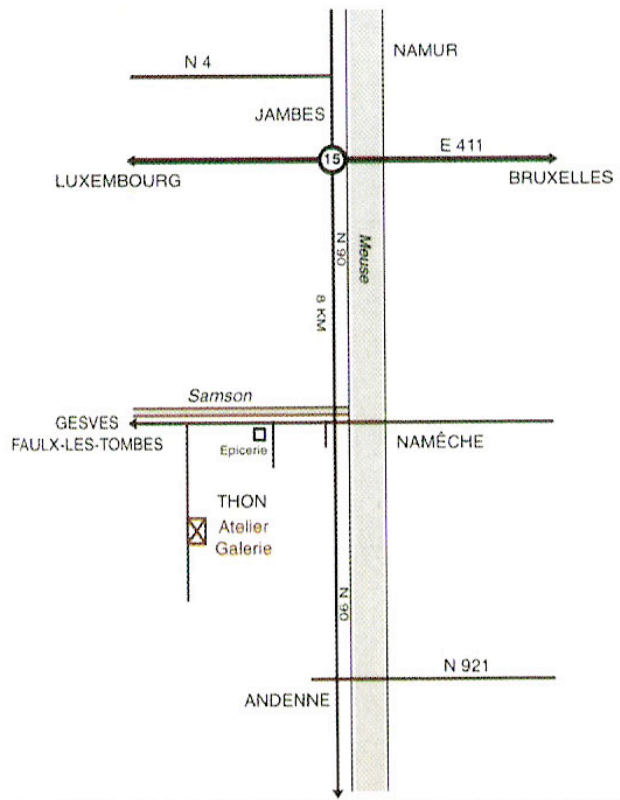




### Exemple 4



### Exemple 5





## Consigne 2

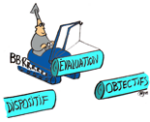
Vous avez 35' pour répondre à la consigne suivante  
« *Philéas arrive en retard à l'École d'été ; vous devez lui proposer un itinéraire pour se rendre de la gare de LLN à l'amphithéâtre ou se déroule l'École. Transcrivez votre itinéraire sur un poster* ».



### Consigne 3

---

Vous avez 30' pour faire une auto-évaluation de votre **production** et du **fonctionnement de votre groupe**, transcrire cette évaluation sur un feuille de paperboard.



## Consignes 4

Vous avez 30' pour observer la production des autres groupes, évaluer cette production, justifier cette évaluation et transcrire une synthèse de votre évaluation sur le poster évaluer.



## Consignes 5

Vous avez 30' pour faire un bilan de votre travail, donner votre avis sur l'évaluation des autres groupes et identifier ce qui a manqué pour assurer la qualité du dispositif, quels sont les problèmes vécus ...

Transcrivez votre bilan sur un poster.